

Задача 1

Перечислите страны, НЕ участвовавшие в Первой мировой войне:

1	<input checked="" type="checkbox"/>	Испания
2	<input type="checkbox"/>	Италия
3	<input type="checkbox"/>	Румыния
4	<input checked="" type="checkbox"/>	Нидерланды
5	<input checked="" type="checkbox"/>	Швеция

Задача 2



Укажите события, связанные с 1793 г.:

1	<input type="checkbox"/>	свержение монархии во Франции
2	<input checked="" type="checkbox"/>	якобинская диктатура
3	<input type="checkbox"/>	взятие Бастилии
4	<input type="checkbox"/>	принятие «Декларации прав человека и гражданина»
5	<input checked="" type="checkbox"/>	казнь Людовика XVI и Марии-Антуанетты

Задача 3



Какие из этих гор вписаны в культурно-исторический ландшафт Древней Греции?

1	<input type="checkbox"/>	Этна
2	<input checked="" type="checkbox"/>	Олимп
3	<input checked="" type="checkbox"/>	Парнас
4	<input type="checkbox"/>	Везувий
5	<input checked="" type="checkbox"/>	Геликон

Задача 4


WAPPEN UND FLAGGEN DES DEUTSCHEN KAISERREICHS



Императорами Германской империи в 1871–1918 гг. были:

1	<input checked="" type="checkbox"/>	Вильгельм I
2	<input type="checkbox"/>	Фридрих II Гогенштауфен
3	<input checked="" type="checkbox"/>	Фридрих III
4	<input checked="" type="checkbox"/>	Вильгельм II
5	<input type="checkbox"/>	Фридрих Вильгельм I

Задача 5



К духовно-рыцарским орденам относятся:

1	<input type="checkbox"/>	иезуиты
2	<input checked="" type="checkbox"/>	орден Калатравы
3	<input type="checkbox"/>	францисканцы
4	<input checked="" type="checkbox"/>	орден Меча Святого Иакова Компостельского
5	<input checked="" type="checkbox"/>	госпитальеры

Задача 6



Укажите страны Европы, которые входят в блок НАТО:

1	<input type="checkbox"/>	Австрия
2	<input checked="" type="checkbox"/>	Франция
3	<input checked="" type="checkbox"/>	Румыния
4	<input checked="" type="checkbox"/>	Германия
5	<input type="checkbox"/>	Сербия

Задача 7




Кто из перечисленных ниже исторических персонажей НЕ были современниками событий, запечатлённых на картине А.- Ж. Гро «Наполеон возле больных чумой в Яффе»:

1	<input type="checkbox"/>	Горацио Нельсон
2	<input checked="" type="checkbox"/>	Абрам Петрович Ганнибал

3	<input checked="" type="checkbox"/>	Джонатан Свифт
4	<input type="checkbox"/>	Ф. Ф. Ушаков
5	<input checked="" type="checkbox"/>	Джеймс Кук

Задача 8



Кто из ниже перечисленных исторических деятелей и деятелей культуры похоронен в Пантеоне (Рим):

1	<input type="checkbox"/>	Леонардо да Винчи
2	<input checked="" type="checkbox"/>	Рафаэль
3	<input type="checkbox"/>	Лоренцо Медичи
4	<input checked="" type="checkbox"/>	Виктор Эммануил II
5	<input type="checkbox"/>	Микеланджело

Задача 9



Укажите события, которые относятся к Тридцатилетней войне:

1	<input checked="" type="checkbox"/>	Пражская дефенестрация
2	<input type="checkbox"/>	Принятие Нантского эдикта
3	<input checked="" type="checkbox"/>	Вестфальский мир
4	<input type="checkbox"/>	Осада крепости Ла-Рошель
5	<input type="checkbox"/>	Принятие Акта о супрематии

Задача 10



Столицами Ассирийского царства были?

1	<input checked="" type="checkbox"/>	Ашшур
2	<input type="checkbox"/>	Фивы
3	<input type="checkbox"/>	Персеполь
4	<input checked="" type="checkbox"/>	Ниневия
5	<input type="checkbox"/>	Вавилон

Задача 11



Кто из указанных ниже российских просветителей НЕ был арестован и осужден за критику самодержавного строя и крепостничества в эпоху правления Екатерины II?

1	<input type="checkbox"/>	Александр Радищев
2	<input checked="" type="checkbox"/>	Федор Волков
3	<input type="checkbox"/>	Николай Новиков
4	<input checked="" type="checkbox"/>	Александр Сумароков
5	<input checked="" type="checkbox"/>	Михаил Ломоносов

Задача 12

Установите соответствия между названиями должностных лиц и государством Древнего мира:

1.	Эфор	<input type="text"/>
2.	Сатрап	<input type="text"/>

3.	Архонт	<input type="text"/>
4.	Консул	<input type="text"/>
5.	Ча́ти	<input type="text"/>

Возможные ответы

1	Древний Египет
2	Афины
3	Спарта
4	держава Ахеменидов
5	Древний Рим

Ответ:

1- Спарта;2- держава Ахеменидов;3- Афины;4- Древний Рим;5- Древний Египет

Задача 13

Установите соответствия между известными памятниками живописи и стилями, в которых они написаны:

1.



П.П. Рубенс. Охота на львов

2.



К. Моне. Мост Чаринг-Кросс

3.



К. Лорен. Римский пейзаж

4.



Г. Курбе. Порыв ветра

Возможные ответы

1	Классицизм
2	Реализм
3	Барокко
4	Импрессионизм

Ответ:

1- Барокко;2- Импрессионизм;3- Классицизм;4- Реализм

Задача 14

Установите соответствия между датами и событиями международных отношений конца XIX – начала XX века.

1	Образование Антанты	<input type="text"/>
2	Складывание Франко-русского союза	<input type="text"/>
3	Боснийский кризис	<input type="text"/>
4	Фашодский кризис	<input type="text"/>

Возможные ответы

1	1898 г.
2	1904-1907 гг.
3	1891-1892 гг.
4	1908 г.

Ответ:

1 – 1904-1907 гг.; 2 - 1891-1892 гг.; 3 – 1908 г.; 4 – 1898 г.

Задача 15

Установите соответствие между очередным Крестовым походом и событием, с ним связанным.

1	I Крестовый поход	<input type="text"/>
2	IV Крестовый поход	<input type="text"/>
3	III Крестовый поход	<input type="text"/>
4	VIII Крестовый поход	<input type="text"/>

Возможные ответы


1	Победы Саладина
2	Взятие Эдессы, Антиохии и Иерусалима
3	Смерть Людовика IX Святого
4	Взятие Константинополя




Ответ:

1 - Взятие Эдессы, Антиохии и Иерусалима; 2 - Взятие Константинополя; 3 - Победы Саладина; 4 - Смерть Людовика IX Святого

Задача 16

Установите соответствия между временем жизни деятелей культуры и искусства и ниже приведёнными датами исторических событий:

1	<input type="text"/>	Мишель де Монтень 
2	<input type="text"/>	Леонардо да Винчи

		
3	<input data-bbox="264 902 691 947" type="text"/>	<p>Галилео Галилей</p> 
4	<input data-bbox="264 1413 691 1458" type="text"/>	<p>Жан-Батист Мольер</p> 

Возможные ответы

1	Фронда во Франции
2	Воцарение династии Романовых
3	Война Алой и Белой Розы
4	Взятие Казани Иваном Грозным

Ответ:

1 – Взятие Казани Иваном Грозным; 2 – Война Алой и Белой Розы; 3 – Воцарение династии Романовых; 4 – Фронта во Франции

Задача 17

Расположите события в хронологической последовательности:

Отставка О. фон Бисмарка	<input type="text"/>
Провозглашение Германской империи	<input type="text"/>
Упразднение Священной Римской империи.	<input type="text"/>
Приятие конституции Франкфуртским национальным собранием	<input type="text"/>
Принятие Конституции США	<input type="text"/>

Ответ:

1- 5, 2 – 4, 3 – 2, 4 - 3 , 5 – 1

Задача 18

Почитайте отрывок из документа и определите название города, который в нем упоминается: «О том, что Франция пережила свой второй Седан и что в ей нанесено было страшнейшее поражение, сейчас отдает себе отчет любой француз. Даже те, которые еще недавно надрывали себе горло при встрече Даладье и Бурже и осыпали цветами его триумфальное шествие к могиле Неизвестного солдата, сейчас уже усвоили ряд непреложных и в достаточной мере неприятных истин, а именно, что: 1) Германия при помощи Франции без единого выстрела увеличила свое население больше чем на 3 миллиона и сейчас довела его до размеров, больше чем в два раза превышающих население Франции; 2) Германия увеличила свою территорию больше чем на 27 тыс. кв. км; 3)

получила в подарок ряд высокооборудованных фабрик и заводов и важнейшие отрасли минеральных богатств...»

Ответ (название города) запишите в именительном падеже, например: Лондон

Ответ

Мюнхен

Задача 19




На картине Александра Маковского изображено посещение императрицей «» (имя запишите в именительном падеже, например: Пётр I) мастерской великого учёного, художника, историка, поэта «» (имя запишите в именительном падеже), которого за одарённость в разных областях и энциклопедичность знания сравнивают с великим учёным и художником Возрождения «» (имя запишите в именительном падеже)

Система оценивания

Ответ:

1-Елизавета Петровна; 2-М.В. Ломоносов; 3-Леонардо да Винчи

Задача 20



2 мая 1808 в Мадриде произошло восстание против оккупации города войсками императора «» (имя запишите в именительном падеже, например: Пётр I). Жестокое подавление этого восстания, репрессии и последовавшие затем военные конфликты подтолкнули великого испанского художника «» (имя запишите в именительном падеже) на создание серии офортов «Бедствия войны». Важную часть этой серии составили листы на аллегорические темы, связанные с критикой инквизиции, политических и социальных порядков, царивших при династии Бурбонов и названные «» (название запишите в именительном падеже)

Ответ

1-Наполеон Бонапарт; 2-Франсиско Гойя; 3-Капричос

Задача 21



Перед вами отрывок из дипломатической переписки времен «холодной войны». Впишите название страны, о которой идет речь в документе:

«Вы, господин Президент, объявляете не карантин, а выдвигаете ультиматум и угрожаете, что если мы не будем подчиняться Вашим требованиям, то Вы примените силу. Вдумайтесь в то, что Вы говорите! И Вы хотите убедить меня, чтобы я согласился с этим? Что значит согласиться с этими требованиями? Это означало бы руководствоваться в своих отношениях с другими странами не разумом, а потакать произволу. Вы уже не апеллируете к разуму, а хотите запугать нас.

Советское правительство считает, что нарушение свободы пользования международными водами и международным воздушным пространством - это акт агрессии, толкающий человечество к пучине мировой ракетно-ядерной войны. Поэтому Советское правительство не может дать инструкции капитанам советских судов, следующих на , соблюдать предписания американских военно-морских сил, блокирующих этот остров...»:

Ответ запишите **в именительном падеже**, например: *Пакистан*

Система оценивания

Ответ: Куба

22. Задача 22



На медальон-миниатюре на тему Тильзитского мира изображены обнимающиеся императоры: «» (слева) (имя императора запишите **в именительном падеже**, например: *Пётр I*), «» (справа) (имя императора запишите **в именительном падеже**, например: *Пётр I*).

Система оценивания

Ответ

1-Наполеон I Бонапарт;2-Александр I

23. Задача 23



Он был королем Неаполя, женился на сестре императора. О нем Наполеон говорил: «Не было более решительного, бесстрашного и блестящего кавалерийского начальника... Он был моей правой рукой, но, предоставленный самому себе, терял всю энергию. В виду неприятеля он превосходил храбростью всех на свете, в поле он был настоящим рыцарем, в кабинете — хвастуном без ума и решительности».

Напишите имя этого человека: .

Запишите полное имя в именительном падеже, например: Адам Смит.

Система оценивания

Ответ

Иоахим Мюрат